

Self Assessment Model Paper - 1 (2025-26)

UDISE Code : _____	Class : 6
PEN ID : _____	Subject : Science
Child Name : _____ Roll No. _____	No. of Questions : 20
	Total Marks : 35
	Duration : 1 hr. 15 min.

Section A : Multiple Choice Questions - Each question has four options out of which ONLY ONE option is correct. 15 x 1 = 15

సెక్షన్ - A : బహుళైచ్ఛిక ప్రశ్నలు - ప్రతి ప్రశ్నకి నాలుగు ఎంపికలు ఉంటాయి మరియు ఆ ఎంపికలలో ఒక ఎంపిక మాత్రమే సరైన సమాధానమవుతుంది.

1. The part of the plant that is green and makes food is _____.
మొక్కలో ఆకుపచ్చగా ఉండి ఆహారాన్ని తయారుచేసే భాగం _____ []
A) Leaf B) Stem C) Root D) Trunk
ఆకు కాండం వేరు మొదలు
2. What sound does a dog make?
కుక్క ఏ శబ్దం చేస్తుంది? []
A) Moo B) Bark C) Roar D) Chirp
మూ అను మొరుగును గర్జించును కిచ కిచమను
3. Which of the following farming activities is usually done first? .
కింది వ్యవసాయ కార్యకలాపాలలో సాధారణంగా ముందుగా జరిగే కార్యక్రమం ఏది? []
A) sowing seeds B) harvesting crops
విత్తనాలు విత్తడం పంటలు కోయడం
C) ploughing the field D) irrigating the field
పొలం దున్నడం పొలానికి నీరు పెట్టడం
4. Some animals and their homes are given as pairs. Which of the following pairs is incorrectly matched?
కొన్ని జంతువులు మరియు వాటి ఇళ్ళను జతలుగా ఇచ్చారు. ఈ క్రింది జతలలో ఏది తప్పుగా జతచేయబడింది? []
A) Dog - Kennel B) Cow - Shed
కుక్క - కెన్నెల్ ఆవు - షెడ్
C) Horse - Shelter D) Lion - Den
గుర్రం - ఆశ్రయం సింహం - గుహ

[Turn Over

5. Which of the following animals is an amphibian?

కింది జంతువులలో ఉభయచర జంతువు ఏది?

A) Cow

ఆవు

B) Fish

చేప

C) Frog


కప్ప

D) Crocodile

మొసలి

6. Identify the type of plant shown in the image below.

క్రింద చూపిన చిత్రంలో చూపిన మొక్క రకాన్ని గుర్తించండి.



A) Creeper

ప్రాకేమొక్క

B) Climber

ఎగబ్రాకే మొక్క

C) Shrub

పొద

D) Tree

చెట్టు

7. I lay eggs, but I don't fly much. Sometimes, I sit on my eggs to keep them warm. Who am I?

నేను గుడ్లు పెడతాను, కానీ నేను ఎక్కువగా ఎగరను. కొన్నిసార్లు, నా గుడ్లను వెచ్చగా ఉంచడానికి వాటిపై కూర్చుంటాను. నేను ఎవరు?



A) Hen

కోడి



B) Buffalo

గేదె



C) Goat

మేక



D) Frog

కప్ప


8. Sarala is walking in the park during the evening. Suddenly , she hears a rustling sound in the bushes nearby. Which sense organ is helping Sarala to detect the sound?

సరళ సాయంత్రం పార్కులో నడుస్తోంది. అకస్మాత్తుగా, సమీపంలోని పొదల్లో ఆమెకు ఒక శబ్దం వినిపించింది. ఆ శబ్దాన్ని గుర్తించడంలో సరళకు ఏ ఇంద్రియ అవయవం సహాయపడుతుంది? []

- A) Ear B) Eye C) Skin D) Nose
చెవి కన్ను చర్మం ముక్కు

9. Which organ enlarges due to inhalation?

ఉచ్ఛ్వాసం (గాలిని పీల్చడం) వల్ల ఏ అవయవం పెరుగుతుంది? []



10. Which of the following is not a healthy food?

కింది వాటిలో ఏది ఆరోగ్యకరమైన ఆహారం కాదు? []

- A) boiled egg
ఉడికించిన గుడ్డు
B) boiled Milk
మరిగించిన పాలు
C) deep Fried Potato chips
బాగా వేయించిన బంగాళా దుంప చిప్స్
D) washed Fruits
కడిగిన పండ్లు

11. What is the main purpose of a dam?

ఆనకట్ట యొక్క ముఖ్య ఉద్దేశ్యం ఏమిటి? []

- A) to grow trees B) to store water
చెట్లను పెంచడం నీటిని నిల్వ చేయడం
C) to run boats D) to catch fish
పడవలను నడపడం చేపలు పట్టడం

12. If a farmer wants to cut grass or harvest crops like paddy manually which tool would be the most appropriate?

ఒక రైతు గడ్డికోయాలనుకుంటే లేదా పరి వంటి పంటలను చేతితో కోయాలనుకుంటే ఏ సాధనం అత్యంత అనుకూలంగా ఉంటుంది? []


A)



B)



C)



D)



13. During summer, farmers in Ramu's village did not get enough rain for their crops. However, they still managed to water their fields using water that came through long channels from a dam. What are these water channels called?

వేసవిలో రాము యొక్క గ్రామంలోని రైతుల పంటలకు తగినంత వర్షం పడలేదు. అయినప్పటికీ, వారు ఆనకట్ట నుండి పొడవైన నిర్మాణాల ద్వారా వచ్చే నీటిని ఉపయోగించి తమ పొలాలకు నీరు పెట్టగలిగారు. ఈ నీటిని ప్రసరింపజేసే ఈ పొడవైన నిర్మాణాలను ఏమని పిలుస్తారు? []

A) Wells

B) Lakes

C) Canals

D) Rivers

బావులు

సరస్సులు

కాలువలు

నదులు

14. Which of the following is the correct sequence of seasons in India?

భారతదేశంలో ఋతువుల యొక్క సరైన క్రమం కింది వాటిలో ఏది? []

A) Winter → Summer → Rainy → Spring

శీతాకాలం → వేసవి → వర్షాకాలం → వసంతకాలం

B) Summer → Rainy → Spring → Winter

వేసవి → వర్షాకాలం → వసంతకాలం → శీతాకాలం

C) Rainy → Summer → Winter → Spring

వర్షాకాలం → వేసవికాలం → శీతాకాలం → వసంతకాలం

D) Winter → Spring → Summer → Rainy

శీతాకాలం → వసంతకాలం → వేసవి → వర్షాకాలం

15. Anu wants to pluck some Roselle leaves (Gongura leaves) from its plant to help her mother in cooking. Which part of the leaf should she hold to safely detach it from the plant?

అను తన తల్లికి వంటలో సహాయం చేయడానికి కొన్ని రోసెల్లె ఆకులను (గోంగూర ఆకులు) మొక్క నుండి కోయాలనుకుంటోంది. వాటిని మొక్క నుండి సురక్షితంగా వేరుచేయడానికి ఆమె ఆకు యొక్క ఏ భాగాన్ని పట్టుకోవాలి? []

A) Apex

అగ్రం

B) Vein

ఈనె

C) Petiole

కాడ

D) Leaf margin

ఆకు అంచు

Section B : Answer the following questions in your answer booklet.

సెక్షన్ - B : మీ సమాధానపు పుస్తకంలో ఈ కింది ప్రశ్నలకు సమాధానాలు రాయండి. 2 x 2 = 4

16. Write down two good practices that you should follow at home when your mother is sick.

మీ తల్లి అనారోగ్యంతో ఉన్నప్పుడు ఇంట్లో మీరు పాటించాల్సిన రెండు మంచి పద్ధతులను రాయండి.

17. Write one example for each of the following.

కింది వాటిలో ప్రతిదానికి ఒక ఉదాహరణ రాయండి.

a) Domestic animal that gives milk

పాలు ఇచ్చే పెంపుడు జంతువు

b) Domestic animal that eats grains

గింజలు తినే పెంపుడు జంతువు

[Turn Over

Section C : Answer the following questions in your answer booklet.


సెక్షన్ - C : మీ సమాధానపు పుస్తకంలో ఈ కింది ప్రశ్నలకు సమాధానాలు రాయండి. $2 \times 4 = 8$

18. Identify the parts of the plant labelled as A and B in the image given below.

Write one function of each - A and B.

క్రింద ఇవ్వబడిన చిత్రంలో A మరియు B గా గుర్తించబడిన మొక్క భాగాలను గుర్తించండి.

A మరియు B ఒక్కొక్కదానికి ఒక విధిని రాయండి.



19. Mention two ways Ravi can suggest to his friends for reducing water wastage at home and two ways to reduce it at school.

ఇంట్లో నీటి వృధాను తగ్గించడానికి రవి తన స్నేహితులకు సూచించగల రెండు మార్గాలను మరియు పాఠశాలలో దానిని తగ్గించడానికి గల రెండు మార్గాలను పేర్కొనండి.

Section D : Answer the following question in your answer booklet. An internal choice is provided for the question.

సెక్షన్ - D : మీ సమాధానపు పుస్తకంలో ఈ కింది ప్రశ్నకు సమాధానం రాయండి. ఈ ప్రశ్నకు అంతర్గత ఎంపిక ఇవ్వబడినది.

1 x 8 = 8

20. A) Given below are a few internal organs and body parts of the human body. Write one function for each.

మానవ శరీరంలోని కొన్ని అంతర్గత అవయవాలు మరియు శరీర భాగాలు క్రింద ఇవ్వబడ్డాయి. ప్రతిదానికి ఒక విధిని వ్రాయండి.

1) Heart

గుండె

2) Brain

మెదడు

3) Lungs

ఉపిరితిత్తులు

4) Teeth

దంతాలు

5) Skin

చర్మం

6) Eyes

కళ్ళు

7) Tongue

నాలుక

8) Ears

చెవులు

(Or) (లేదా)

B) Pollution is the presence of harmful substances in the environment that affect air, water, and land.

కాలుష్యం అంటే పర్యావరణంలోని గాలి, నీరు మరియు భూమిలో దానిని ప్రభావితం చేసే హానికరమైన పదార్థాలు ఉండటం.

i) Give two examples each of natural and human-made causes of pollution.

కాలుష్యానికి సహజ మరియు మానవ నిర్మిత కారణాలకు రెండు చొప్పున ఉదాహరణలు ఇవ్వండి.

ii) Write any four effects of pollution.

కాలుష్యం వల్ల కలిగే ఏవైనా నాలుగు ప్రభావాలను రాయండి.